


# Contextkraker Opdrachtenboekje

Olympische Zomerspelen



## Inhoudsopgave

Het Mysterie van de Olympische Spelen .....	3
Invulblad .....	4
Plattegrond .....	5
Opdracht 1: De geschiedenis van de Olympische Spelen.....	6
Opdracht 2: De reis van de vlam .....	7
Puzzelopdracht 1 .....	8
Opdracht 3: Olympische Spelen in Nederland .....	8
Opdracht 4: Nederlandse Olympiërs.....	10
Puzzelopdracht 2 .....	11
Opdracht 5: Verdwenen olympische sporten.....	12
Opdracht 6: Paralympische Spelen.....	13
Puzzelopdracht 3 .....	14

## Het Mysterie van de Olympische Spelen

De droom van Finn is uitgekomen. Hij is al zo lang hij zich kan herinneren groot fan van de Olympische Spelen. Dit jaar mag hij als vrijwilliger meehelpen bij de Spelen in Parijs! Achter de helpdesk staat Finn klaar om de atleten en bezoekers met al hun vragen en problemen te helpen. Het is een drukke en spannende dag, en iedereen kijkt uit naar de wedstrijden die gaan komen.

Plotseling komt er een haastige Olympische atleet naar hem toe. Hij ziet er bezorgd uit en fluistert dat hij iets belangrijks kwijt is. Voordat Finn meer details kan vragen, verdwijnt de atleet al in de menigte, zonder zijn naam of sport te noemen. Zonder dat voorwerp kan de wedstrijd misschien niet doorgaan! Welke sport beoefent de atleet, en wat is hij kwijt...?



Finn achter de helpdesk

## Invulblad

Kun jij Finn helpen om erachter te komen om welke sport en om welk voorwerp het gaat? Zet in dit overzicht alle informatie die je hebt verzameld bij elkaar. Zoek aan het eind naar een sport die bij de informatie past. Je kunt op internet speuren, op de plattegrond zoeken en met elkaar overleggen. Op de plattegrond zie je boogschieten, schermen, wielrennen, hockey, zwemmen, atletiek, paardrijden, roeien, judo, kanoën, volleybal, tennis, turnen, taekwondo, gewichtheffen, rugby sevens en badminton.



### Dit is wat ik weet over de sport na de reguliere opdrachten:

na opdracht 1:

na opdracht 2:

na opdracht 3:

na opdracht 4:

na opdracht 5:

na opdracht 6:


### Dit is wat ik weet over het voorwerp na de puzzelopdrachten:

na puzzelopdracht 1:

na puzzelopdracht 2:

na puzzelopdracht 3:

**Heb je ontdekt welke sport de sporter uitoefent en wat hij kwijt is?  
Schrijf het hieronder op en lever het antwoord in bij de juf of meester!**

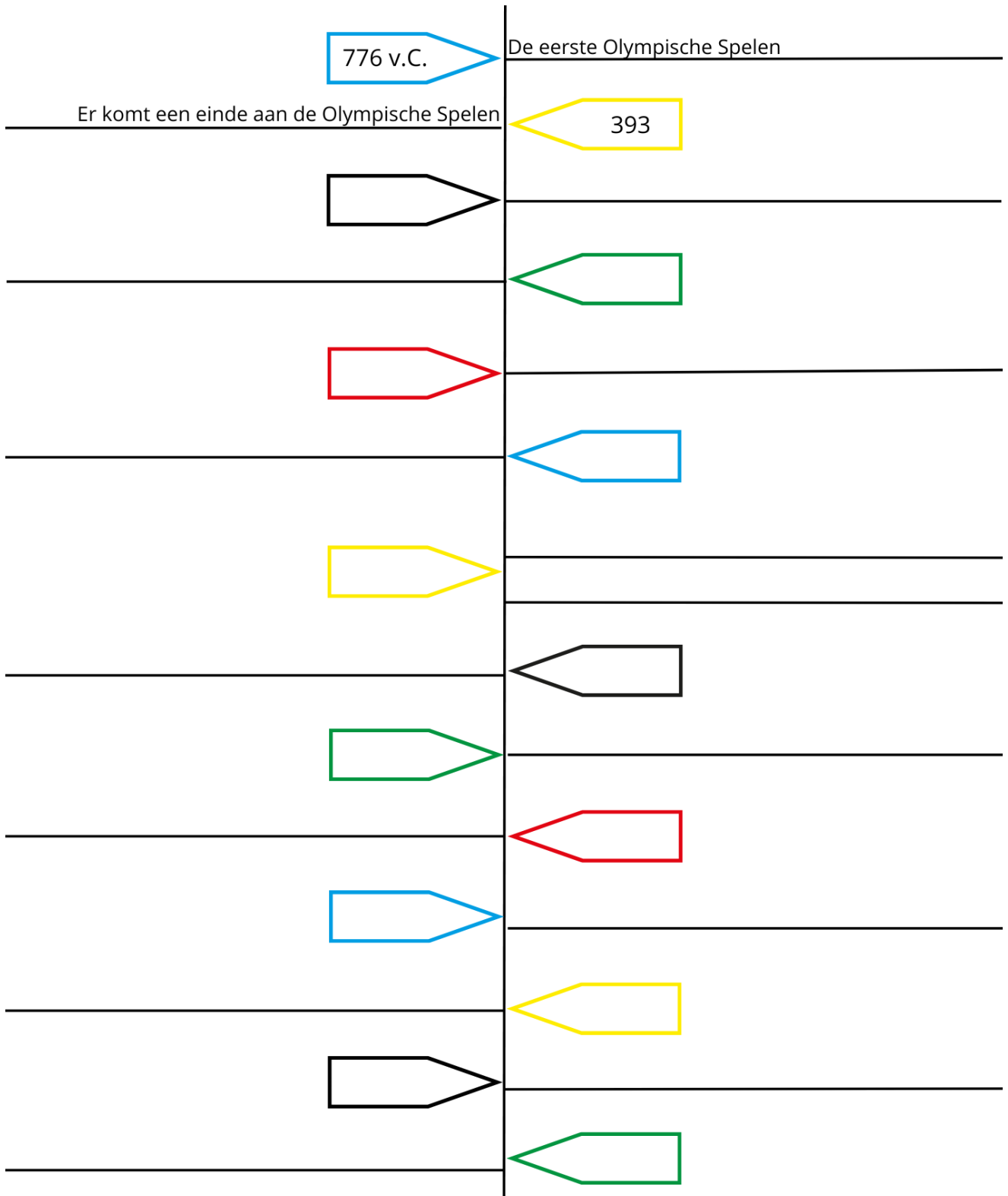


# Plattegrond



## Opdracht 1: De geschiedenis van de Olympische Spelen

Gebruik de tekst 'De geschiedenis van de Olympische Spelen'. In de tekst zijn veel belangrijke gebeurtenissen rondom de Olympische Spelen genoemd. Zoek de gebeurtenissen op in de tekst. Zet de gebeurtenissen in de goede volgorde in de tijdbalk. Noteer het jaartal, de gebeurtenis, of beide. Ga met je tijdbalk naar je juf of meester. Zijn de antwoorden goed? Dan volgt er een hint...




## Opdracht 2: De reis van de vlam

Stel je voor dat de Olympische Spelen weer door Nederland georganiseerd worden. De fakkel zal weer in een estafette doorgegeven worden van sporter aan sporter. Deze estafette begint op de originele plek en gaat langs de steden die een belangrijke rol hebben gespeeld in de geschiedenis van de fakkel op volgorde van jaartallen. In dit geval wordt de fakkel altijd in een rechte lijn over land of zee van stad naar stad gebracht.

Gebruik de tekst: '*De reis van de vlam*'. Hoeveel verschillende landen moeten je doorreizen om van de beginplek naar Amsterdam te komen? Zoek op waar de steden op de kaart liggen en ontdek de route. Kies de goede uitkomst en krijg de bijbehorende hint.

**Tip:** Gebruik een liniaal en vind de juiste plekken met een atlas of laptop!

- A. Er worden vijf landen doorkruist.
  - Hint: *Groen*
- B. Er worden zes landen doorkruist.
  - Hint: *Zwart*
- C. Er worden zeven landen doorkruist.
  - Hint: *Geel*
- D. Er worden acht landen doorkruist.
  - Hint: *Rood*
- E. Er worden negen landen doorkruist.
  - Hint: *Blauw*



## Puzzelopdracht 1

### Let op:

- Deze puzzel kan pas gemaakt worden als de teksten 'De geschiedenis van de Olympische Spelen' en 'De reis van de vlam' zijn gelezen en de bijbehorende opdrachten zijn afgerond.
- Gebruik de teksten: 'De geschiedenis van de Olympische Spelen' en 'De reis van de vlam', om de puzzel op te lossen
- Deze puzzelopdracht helpt bij het ontdekken van het verdwenen voorwerp!

### Hoe werkt een kruiswoordpuzzel?

Je gaat op zoek naar een willekeurige omschrijving waar je het antwoord op weet. Dit woord vul je in op de juiste plaats in de puzzel. Heb je eenmaal een beginnetje, dan kun je met behulp van kruisingen de andere woorden proberen in te vullen. Zo vlecht je als het ware vanzelf de puzzel vol. Probeer de puzzel helemaal in te vullen en achterhaal zo de oplossing!


## Kruiswoordpuzzel

### Horizontaal

- 1** eerste belangrijke organisator Olympische Spelen  
**4** ander woord voor toorts  
**6** op de olympische vlag staan  
**7** de Zomer- en ...spelen  
**8** belangrijkste god van de Grieken

### Verticaal

- 2** rennen waarbij je iets vasthoudt en doorgeeft  
**3** plaats waar de Olympische Spelen zijn ontstaan  
**5** betekenis witte achtergrond vlag



### Oplossing

a	b	b	c	d	e	f
---	---	---	---	---	---	---



### Opdracht 3: Olympische Spelen in Nederland

Gebruik de tekst 'Olympische Spelen in Nederland'. Geef aan of de onderstaande beweringen waar of niet waar zijn.

Bewering	Waar	Niet waar
1. Er waren mensen die niet wilden dat de Olympische Spelen van 1928 in Nederland zouden plaatsvinden.		
2. De Nederlandse overheid heeft de Olympische Spelen volledig betaald.		
3. Er waren vier primeurs op de Olympische Spelen van 1928.		
4. De drie demonstratiesporten in 1928 waren: korfbal, lacrosse en pelota.		
5. De demonstratiewedstrijd kaatsen werd afgelast.		
6. Er is geen kunstprogramma meer op de Olympische Spelen.		

Kies de goede uitkomst en krijg de bijbehorende hint.

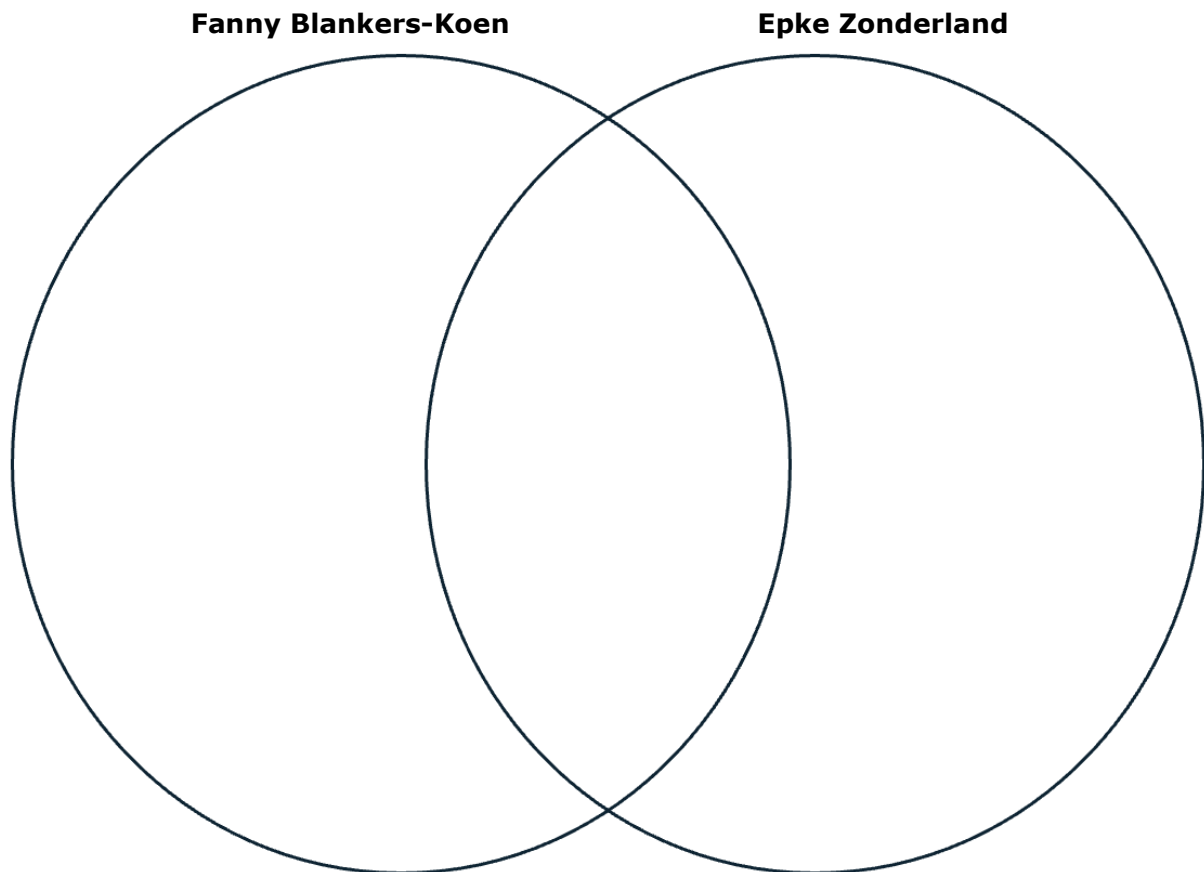
- A. Er zijn twee beweringen niet waar en vier beweringen waar.
  - Hint: *De laatste letter van de sport staat tussen de k en s in het alfabet.*
- B. Er zijn vijf beweringen niet waar en een bewering waar.
  - Hint: *De laatste letter van de sport staat tussen de a en j in het alfabet.*
- C. Er zijn vier beweringen niet waar en twee beweringen waar.
  - Hint: *De laatste letter van de sport staat tussen de m en u in het alfabet.*
- D. Er zijn drie beweringen niet waar en drie beweringen waar.
  - Hint: *De laatste letter van de sport staat tussen de n en z in het alfabet.*

### Opdracht 4: Nederlandse Olympiërs

Gebruik de cv's van 'Fanny Blankers-Koen' en 'Epke Zonderland' om de puzzel op te lossen. Een cv, dat staat voor *curriculum vitae*, is een document dat een overzicht geeft van iemands werkervaringen en prestaties. Het is een soort samenvatting van iemands levensloop, bedoeld als een persoonlijk visitekaartje voor werkgevers.

#### Vraag

Hoeveel overeenkomsten tussen Fanny Blankers-Koen en Epke Zonderland kan je in de tekst vinden? Gebruik het venndiagram om de overeenkomsten duidelijk bij elkaar te zetten.



Kies de goede uitkomst en krijg de bijbehorende hint.

- A. Er zijn 4 overeenkomsten te vinden tussen de sporters.
  - Hint: *Het is wel een balsport.*
- B. Er zijn 5 overeenkomsten te vinden tussen de sporters.
  - Hint: *Het is geen balsport.*
- C. Er zijn 6 overeenkomsten te vinden tussen de sporters.
  - Hint: *Het is wel een balsport.*
- D. Er zijn 7 overeenkomsten te vinden tussen de sporters.
  - Hint: *Het is geen balsport.*

## Puzzelopdracht 2

### Let op:


- Deze puzzel kan pas gemaakt worden als de teksten 'Olympische Spelen in Nederland', 'Fanny Blankers-Koen' en 'Epke Zonderland' zijn gelezen en de bijbehorende opdrachten zijn afgerond.
- Gebruik de teksten: 'Olympische Spelen in Nederland', 'Fanny Blankers-Koen' en 'Epke Zonderland' om de puzzel op te lossen.
- Deze puzzelopdracht helpt bij het ontdekken van het verdwenen voorwerp!
- De 'ij' zit in één vakje!

### Hoe werkt een filippine puzzel?

Je zoekt de woorden volgens de gegeven omschrijvingen. Wanneer je een woord hebt ingevuld, zet je de letters van dat woord over naar de gelijk genummerde vakjes in de rest van de puzzel. Probeer, steeds gebruikmakend van de eerder gevonden letters, de puzzel helemaal in te vullen en achterhaal zo de oplossing. Deze vind je terug in de gemarkeerde vakjes, die je altijd van boven naar beneden leest.

## Filippine

- |    |  |     |                                      |
|----|--|-----|--------------------------------------|
| 1. | als je voor het eerst ergens aan meedoet | 7.  | demonstratiesport met een netje      |
| 2. | laatste ronde in een wedstrijd           | 8.  | 42 kilometer en 195 meter            |
| 3. | hierdoor kwam Fanny laat aan             | 9.  | tijdens de opening is er een ...     |
| 4. | de C in NOC                              | 10. | stuk bijnaam dat Epke en Fanny delen |
| 5. | onderdeel kunstprogramma                 | 11. | kleur van de hoogste prijs           |
| 6. | prijs die je wint                        |     |                                      |



### Opdracht 5: Verdwenen olympische sporten

Gebruik de tekst 'Verdwenen Olympische sporten'. Geef aan of de onderstaande beweringen waar of niet waar zijn. Ga met het ingevulde schema naar je juf of meester. Zijn de antwoorden goed? Dan volgt er een hint...

Bewering	Waar	Niet waar
1. Alle verdwenen sporten maakten deel uit van het programma op de Spelen van 1900.		
2. Alle verdwenen sporten waren demonstratiesporten.		
3. Alle verdwenen sporten zijn individuele sporten.		
4. Een demonstratiesport is een sport waarbij je demonstreert tegen andere sporten.		
5. Touwtrekwedstrijden werden gespeeld met een tijdgrens.		
6. Het is nog steeds moeilijk om mee te doen met touwtrekwedstrijden op internationaal niveau.		
7. Pelota is een sport waar altijd een hulpmiddel gebruikt wordt om tegen een bal te slaan.		
8. Je wint een punt bij pelota als je de bal tegen het plafond aan slaat.		
9. Bij hinderniszwemmen waren er onder andere drijvende hindernissen.		
10. Het onderwaterzwemmen zorgde niet voor genoeg entertainment bij het publiek.		
11. Verspringen met paarden is een sport die samengesteld is uit onderdelen van twee sporten.		
12. De wedstrijdvorm van verspringen met paarden is vergelijkbaar met regulier verspringen.		

## Opdracht 6: Paralympische Spelen

Gebruik de tekst '*Paralympische Spelen*'. In de tekst over de Paralympische Spelen staan veel getallen. Die getallen geven informatie. Als je de getallen op een rij zet, zie je meteen waar de getallen in de tekst voor staan.

1. Zoek de getallen in de tekst op.
2. Vul het getallenschema in. Schrijf in het vakje om welk getal het gaat en wat er met het getal wordt bedoeld.
3. Ga met het ingevulde schema naar je juf of meester. Zijn de antwoorden goed? Dan volgt er een hint...

<b>6</b>	<b>8</b>	<b>17</b>
<b>17</b>	<b>22</b>	<b>25</b>
<b>28</b>	<b>59</b>	<b>182</b>
<b>209</b>	<b>240</b>	<b>1948</b>
<b>1960</b>	<b>1972</b>	<b>1976</b>
<b>2020</b>	<b>2024</b>	<b>4400</b>

### Puzzelopdracht 3


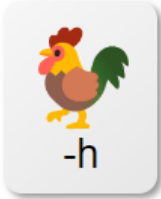





#### Let op:

- Deze puzzel kan pas gemaakt worden als de tekst 'De Paralympische Spelen' en de bijbehorende opdracht is afgerond.
- Deze puzzelopdracht helpt bij het ontdekken van het verdwenen voorwerp!
- Als de plaatjes van de rebus in hetzelfde vakje staan, maken ze samen één woord!

Iedere rebus bevat een hint en jij moet achter de geschikte paralympische sport voor Achmed komen. Hou rekening met zijn voorkeuren om zo de passende sport te achterhalen. Hij is een beetje bijgelovig en wil geen sporten doen waarvan de naam niet minimaal vijf letters is. Je kunt achter zijn voorkeuren komen door de rebussen op te lossen. Ga op zoek in de 'paralympische sportwijzer' van team NL met de voorkeuren die je hebt gevonden. Dit kan eventueel via de volgende link:

<https://nocnsf.nl/media/1955/paralympische-sportwijzer-teamnl.pdf>

Als je de sport voor Achmed hebt gevonden, geef je je antwoord door aan je juf of meester en dan krijg je de laatste hint!

 <p>-d      -en      K</p> <p>.....</p>	 <p>-h</p> <p>.....</p>	 <p>r=e l=de</p> <p>.....</p>	 <p>o=e</p> <p>.....</p>
 <p>s=wa      h=sp                  u=r</p> <p>.....</p>			
 <p>f=n -s</p> <p>.....</p>	 <p>bo=zw k=mm</p> <p>.....</p>		